

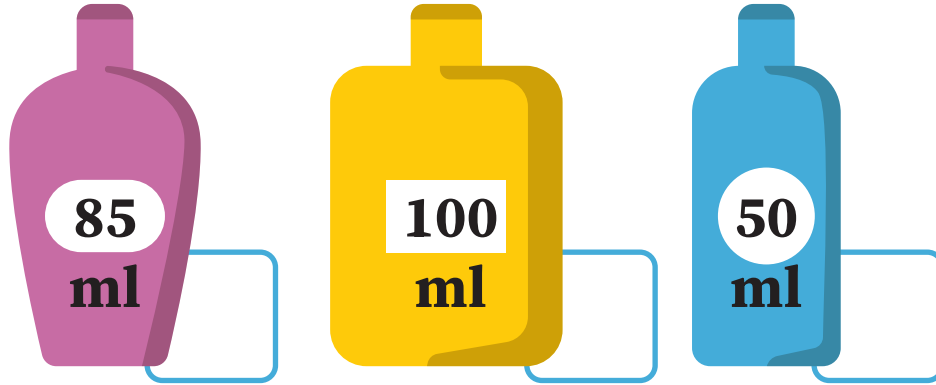
Data: _____

Nume: _____

1

Rapunzel își spală părul

În prima zi folosește 10ml din șamponul mov și 15ml din cel albastru. A doua zi folosește 25ml din cel galben și 20ml din cel albastru. În a treia zi din cel mov folosește 15ml și din cel galben 10ml.

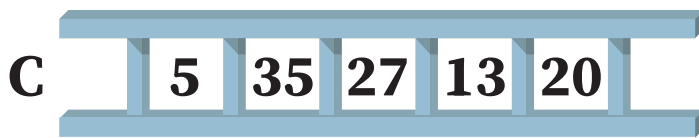
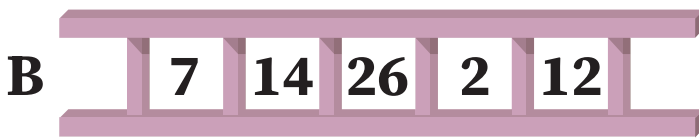


Cât șampon îi mai rămâne lui Rapunzel în fiecare cutie?

2

Să salvăm prințesa

Rapunzel este prinsă în turn. Ajută prințul să aleagă scara de dimensiune potrivită pentru a salva prințesa. De la pământ până la balcon sunt 100m. Colorează imaginea.




A

B

C

D



100m